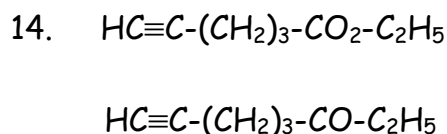
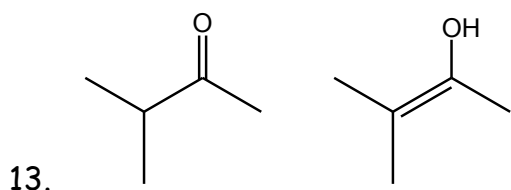
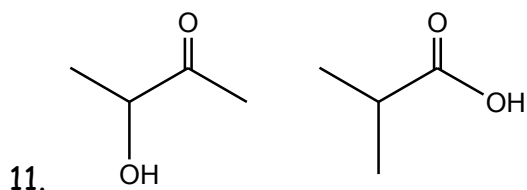
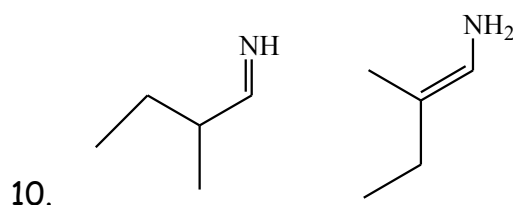


1.



Exercice 12.

- Dessinez et nommez les 9 isomères de formule brute C_7H_{16} .
- Quelles sont les types d'isoméries qu'on peut avoir entre ces molécules ? Donner un exemple pour chaque type d'isomérie.